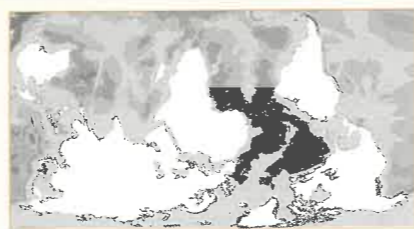
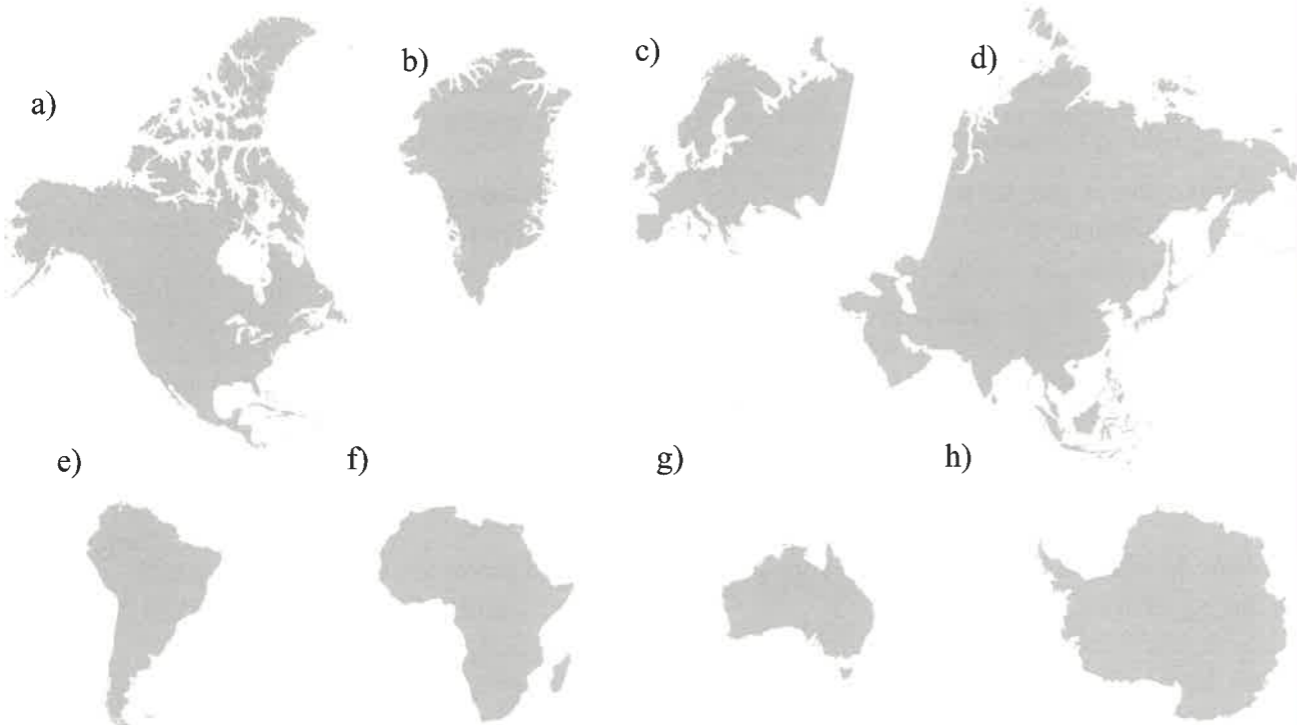


Zobrazování světa s Evropou uprostřed vzniklo na základě mezinárodní úmluvy.

Jak se vám líbí nápad zobrazovat svět například opačně – pohledem Australana?



1. Pojmenujte jednotlivé světadíly a Grónsko a seřad'te je podle velikosti.



- a) e)
- b) f)
- c) g)
- d) h)

2. Zapište do tabulky nejvyšší hory a velké řeky všech světadílů. Pracujte se školním atlasem.

Světadíl	Nejvyšší hora světadílu podle nadmořské výšky (m n. m.)	Pohoří	Řeka – Stát
Asie	Mt. Everest – 8 848 m n. m.	Himálaj	Chang Jiang – Čína
Afrika			
S. Amerika			
J. Amerika			
Antarktida			
Evropa			
Austrálie a Oc.			

Poznámky:

V Americe, konkrétně v Massachusetts / USA, najdeme jezero s nejdelším názvem na světě. Zkuste toto indiánské jméno přečíst. Lake Chagoggagoggmanchauggauggagoggchaubunagungamaugg. Místní obyvatelé ho označují jako jezero Websterské.

Z kolika písmen se skládá tento indiánský název?

1. Vytvořte si vlastní legendu, zakreslete do mapy a popište.

Legenda:

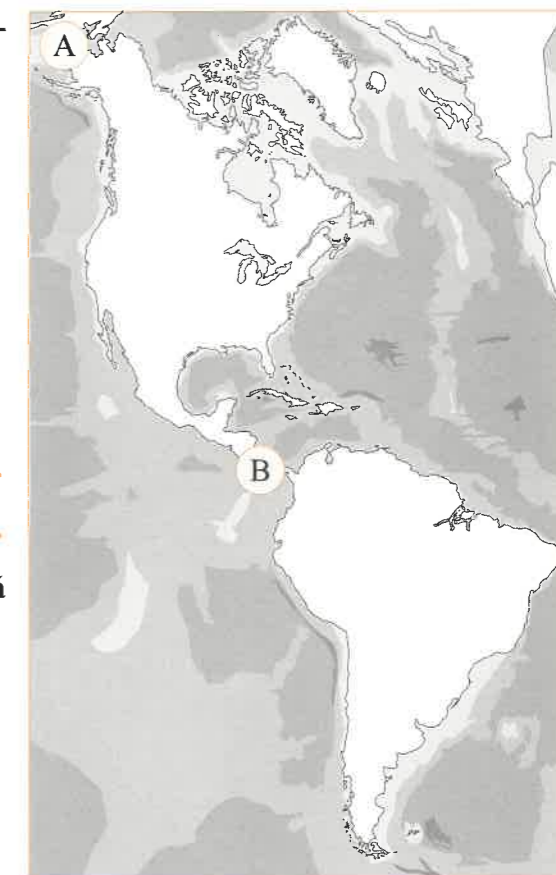
- hranice mezi Severní a Střední Amerikou
- hranice mezi Střední a Jižní Amerikou
- Severní Amerika
- Střední Amerika
- Jižní Amerika

Co označují písmena?

- A
B


2. Proč bývá Jižní Amerika označována jako Latinská Amerika?

.....
.....
.....
.....



3. Vylustěte doplňovačku. Pracujte se školním atlasem. Jednotlivá místa zaznačte do mapy (číslem 1–10).

- Největším průlivem na světě je ...
- Nejdelší a největší řekou na světě je ...
- Největším ostrovem na světě je ...
- Největším kaňonem na světě je ...
- Největším státem Střední Ameriky je ...
- Souostroví na rovníku známé kvůli přírodě se nazývá ...
- Místo v Severní Americe s nejnižší nadm. výškou je ...
- Záliv mezi poloostrovy Florida a Yucatán se nazývá ...
- Nejznámější vodopády Severní Ameriky jsou ...
- Největším městem USA je ...



Nejdelším pohořím světa jsou (tajenka).

4. Jak se nazývají Kordillery v Jižní Americe?

.....

Poznámky: